

ESCOLA _____ DATA: ____/____/____


PROF: _____ TURMA: _____

NOME: _____



GRÁFICOS

Observe os itens abaixo, em seguida monte um gráfico e responda as questões:



10				
9				
8				
7				
6				
5				
4				
3				
2				
1				

Conte os itens e registre

7		1	
6		8	

Qual item tem mais?

Tem mais borrachas

Qual item tem menos?

Tem menos aquarela



ESCOLA _____ DATA: ____ / ____ / ____


PROF: _____ TURMA: _____

NOME: _____



GRÁFICOS

Observe os itens abaixo, em seguida monte um gráfico e responda as questões:



10				
9				
8				
7				
6				
5				
4				
3				
2				
1				



Conte os itens e registre

6		9	
10		7	

Qual item tem mais?

Tem mais apontadores

Qual item tem menos?

Tem menos cadernos

ESCOLA _____ DATA: ____/____/____


PROF: _____ TURMA: _____

NOME: _____



GRÁFICOS

Observe os itens abaixo, em seguida monte um gráfico e responda as questões:



10				
9				
8				
7				
6				
5				
4				
3				
2				
1				



Conte os itens e registre

10		3	
9		6	

Qual item tem mais?

Tem mais relógios

Qual item tem menos?

Tem menos mochilas