

ESCOLA _____ DATA: ____/____/____

PROF: _____ TURMA: _____

NOME: _____



GRÁFICO

OBSERVE O GRAFICO E RESPONDA AS QUESTÕES
ABAIXO:

ANIMAIS DE ESTIMAÇÃO ATENDIDOS NA LOJA DA YVONE



1. QUANTOS SÃO?

CACHORROS

PEIXE

TARTARUGA

GATO

2. FORAM ATENDIDOS MAIS TARTARUGAS OU CÃES?

3. QUAL FOI O ANIMAL MAIS ATENDIDO?

4. QUAL O TOTAL DE ANIMAIS ATENDIDOS?

ESCOLA _____ DATA: ____/____/____

PROF: _____ TURMA: _____


NOME: _____



GRÁFICO

OBSERVE O GRAFICO E RESPONDA AS QUESTÕES
ABAIXO:

PLANTAS COLHIDAS NO SÍTIO DE ANTÔNIO



1. QUANTOS SÃO?

ABÓBORA

ALFACE

CEBOLA

BETERRABA

2. TEM MAIS BETERRABAS OU CEBOLAS?

3. QUAL ALIMENTO TEM 11 UNIDADES?

4. QUAL A QUANTIDADE TOTAL DE ALIMENTOS COLHIDOS?

ESCOLA _____ DATA: ____/____/____

PROF: _____ TURMA: _____


NOME: _____



GRÁFICO

OBSERVE O GRAFICO E RESPONDA AS QUESTÕES
ABAIXO:

CAIXA DE BRINQUEDOS DE JAQUELINE



1. QUANTOS SÃO?

HELICÓPTERO

PIPA

ROBÔ

BOLA

2. TEM MAIS ROBÔS OU HELICÓPTEROS?

3. QUAL BRINQUEDO TEM MAIS DE SETE?

4. QUANTOS BRINQUEDOS TEM NA CAIXA DE BRINQUEDOS DE JAQUELINE?

ESCOLA _____ DATA: ____/____/____

PROF: _____ TURMA: _____


NOME: _____



GRÁFICO

OBSERVE O GRAFICO E RESPONDA AS QUESTÕES
ABAIXO:

ITENS VENDIDOS NA LANCHONETE DE MARCOS



1. QUANTOS SÃO?

Cookie

HAMBÚRGUER

Pizza

Donut

2. TEM MAIS HAMBÚRGUER OU DONUT?

3. QUAL ALIMENTO TEM MAIS DE SEIS?

4. QUAL É O TOTAL DE ALIMENTOS NA LANCHONETE?

ESCOLA _____ DATA: ____/____/____

PROF: _____ TURMA: _____

NOME: _____



GRÁFICO

OBSERVE O GRAFICO E RESPONDA AS QUESTÕES
ABAIXO:

CAIXA DE VEGETAIS



1. QUANTOS SÃO?

BROCÓLIS

CENOURA

BERINGELA

RABANETE

2. TEM MAIS BERINGELAS OU RABANETES?

3. QUAL VEGETAL TEM MAIS DE OITO?

4. QUAL O TOTAL DE VEGETAIS NA CAIXA?

ESCOLA _____ DATA: ____/____/____

PROF: _____ TURMA: _____


NOME: _____



GRÁFICO

OBSERVE O GRAFICO E RESPONDA AS QUESTÕES
ABAIXO:

CESTA DE FRUTAS



1. QUANTOS SÃO?

PÊSSEGO

MORANGO

PÊRA

MAÇÃ

2. TEM MAIS MAÇÃS OU MORANGOS?

3. QUAL FRUTA TEM MAIS DE OITO?

4. QUAL É O TOTAL DE FRUTAS NA CESTA?
