

ESCOLA _____ DATA: ____/____/____

PROF: _____ TURMA: _____

NOME: _____



Represente as horas nos relógios abaixo



3:00



4:00



9:00



12:00



6:00



11:00



7:00



1:00



2:00

ESCOLA _____ DATA: ____/____/____

PROF: _____ TURMA: _____

NOME: _____



Escreva as horas nos relógios abaixo:



1:30



12:30



2:30



6:30



9:30



7:30



11:30



10:30

ESCOLA _____ DATA: ____/____/____

PROF: _____ TURMA: _____

NOME: _____



Registre as horas embaixo de cada relógio



3:00



5:10



8:05



2:50



4:55



11:35



10:30



6:40



1:45



8:15



3:25



9:20

ESCOLA _____ DATA: ____/____/____

PROF: _____ TURMA: _____

NOME: _____



AS HORAS



1) Observe os ponteiros do relógio e registre a hora correta abaixo.



4:00



2:45



1:30



9:15



8:00



12:30



2:15



7:45

2) Observe as horas e desenhe os ponteiros do relógio.



3:45



7:30



1:15



6:00



11:30



2:45



8:15



10:45

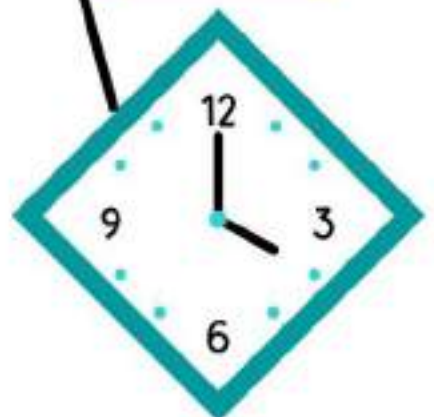
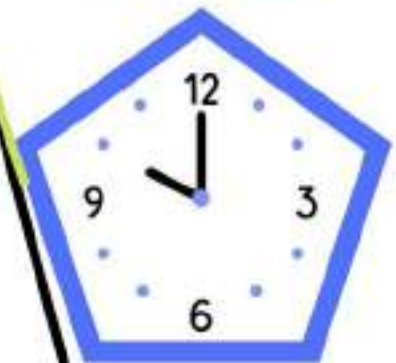
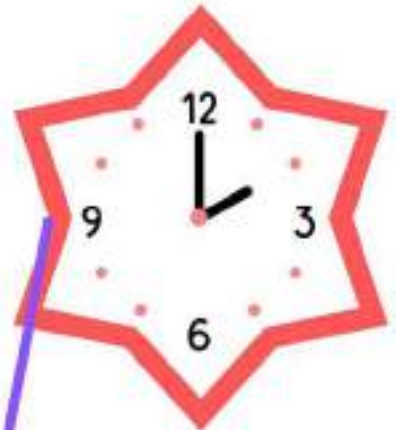
ESCOLA _____ DATA: ____ / ____ / ____

PROF: _____ TURMA: _____

NOME: _____



Ligue o relógio a hora correspondente



4:00

10:00

8:00

6:00

1:00

11:00

3:00

2:00