

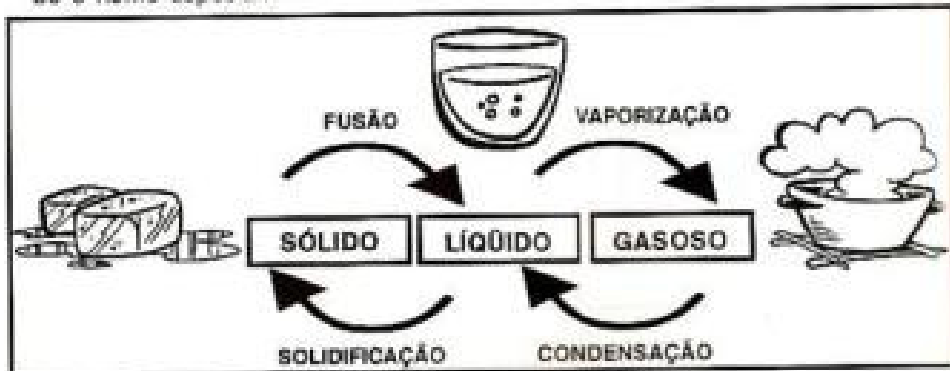
ESCOLA _____ DATA: ____/____/____

PROF: _____ TURMA: _____

NOME: _____

Mudanças de Estado da Água

• A água pode mudar de estado. A passagem de um estado para outro recebe o nome especial.



• Numere, de acordo com a mudança de estado da água:

(1) O espelho do banheiro fica embaçado, após um banho com água quente. (vaporização)

FUSÃO

(2) Ao se destampar a panela de arroz, cai água da parte interna da tampa. (condensação)

VAPORIZAÇÃO

(3) Os cubos de gelo se derretem na limonada. (fusão)

SOLIDIFICAÇÃO

(4) As forminhas, cheias de água, ficam com gelo, após algum tempo no congelador. (solidificação)

CONDENSAÇÃO



ESCOLA _____ DATA: ____/____/____

PROF: _____ TURMA: _____

NOME: _____

Mudanças de Estado da Água

• A água pode mudar de estado. A passagem de um estado para outro recebe o nome especial.



• Numere, de acordo com a mudança de estado da água:

(1) O espelho do banheiro fica embaçado, após um banho com água quente. (vaporização)

FUSÃO

(2) Ao se destampar a panela de arroz, cai água da parte interna da tampa. (condensação)

VAPORIZAÇÃO

(3) Os cubos de gelo se derretem na limonada. (fusão)

SOLIDIFICAÇÃO

(4) As forminhas, cheias de água, ficam com gelo, após algum tempo no congelador. (solidificação)

CONDENSAÇÃO

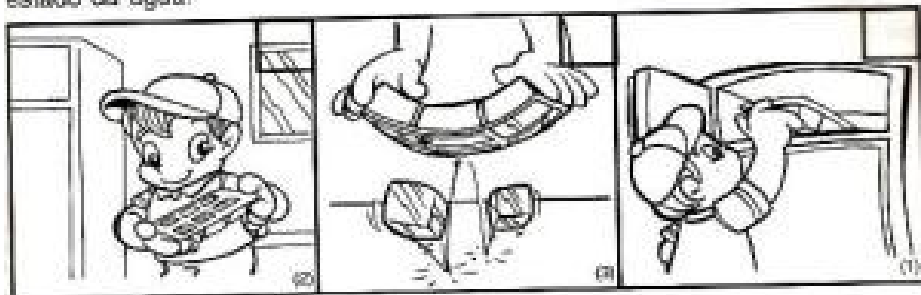


ESCOLA _____ DATA: ____/____/____

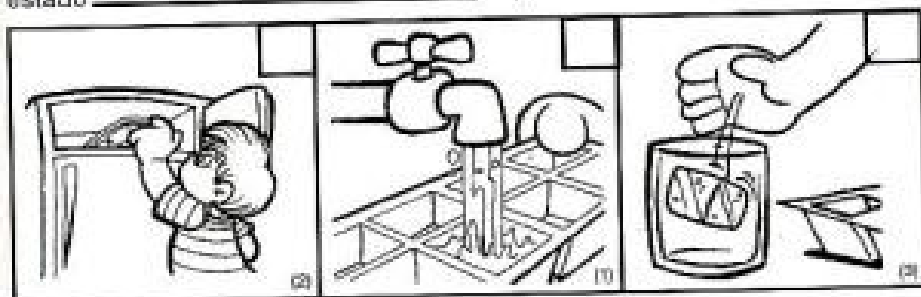
PROF: _____ TURMA: _____

NOME: _____


+ Numere na ordem certa as cenas, e complete-as de acordo a mudança de estado da água:



+ Estava no estado _____ transformou-se para o estado _____



+ Estava no estado _____ transformou-se para o estado _____



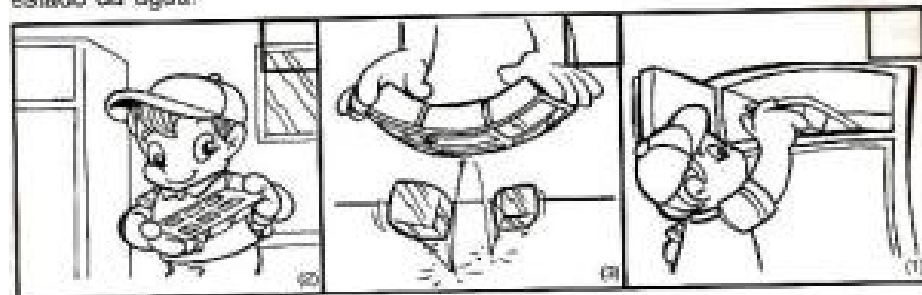
+ Estava no estado _____ transformou-se para o estado _____

ESCOLA _____ DATA: ____/____/____

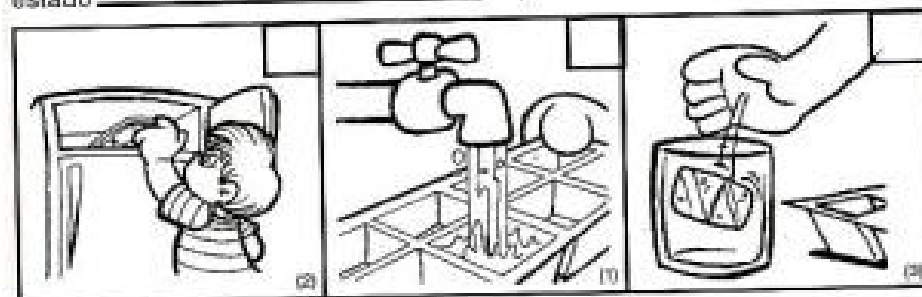
PROF: _____ TURMA: _____

NOME: _____


+ Numere na ordem certa as cenas, e complete-as de acordo a mudança de estado da água:



+ Estava no estado _____ transformou-se para o estado _____



+ Estava no estado _____ transformou-se para o estado _____



+ Estava no estado _____ transformou-se para o estado _____

ESCOLA _____ DATA: ____/____/____

PROF: _____ TURMA: _____

NOME: _____

Mudança dos Estados da Água




• Numere de acordo:

- 1 Condensação
- 2 Evaporação
- 3 Fusão
- 4 Solidificação



- Do sólido para o líquido
- Do gasoso para o líquido
- Do líquido para o sólido
- Do líquido para o gasoso



ESCOLA _____ DATA: ____/____/____

PROF: _____ TURMA: _____

NOME: _____

Mudança dos Estados da Água




• Numere de acordo:

- 1 Condensação
- 2 Evaporação
- 3 Fusão
- 4 Solidificação



- Do sólido para o líquido
- Do gasoso para o líquido
- Do líquido para o sólido
- Do líquido para o gasoso



ESCOLA _____ DATA: ____/____/____

PROF: _____ TURMA: _____

NOME: _____

**O QUE ESTÁ ACONTECENDO?
CONVERSE COM SUA PROFESSORA**



ESCOLA _____ DATA: ____/____/____

PROF: _____ TURMA: _____

NOME: _____

**O QUE ESTÁ ACONTECENDO?
CONVERSE COM SUA PROFESSORA**

