

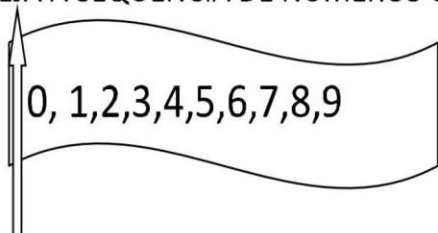
Escola _____ Data: ____ / ____ / ____

Prof: _____ Turma: _____

Nome: _____

AVALIAÇÃO DE MATEMÁTICA

VEJA A SEQUENCIA DE NÚMEROS QUE APARECE NA BANDEIRA:



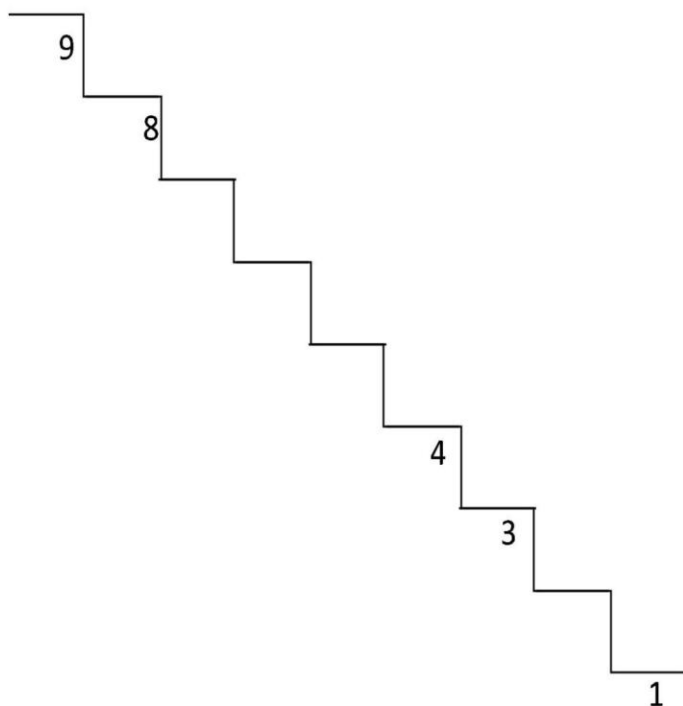
PAPAI DO CÉU,
ILUMINE A MENTE
DE TODAS AS
CRIANÇAS...



1-ENTRE O 7 E O 9 ESTÁ O NÚMERO _____

2-O NÚMERO 1 ESTÁ ENTRE OS NÚMEROS _____ E _____

3-DESCUBRA OS NÚMEROS QUE ESTÃO FALTANDO E COMPLETE A SEQUENCIA:

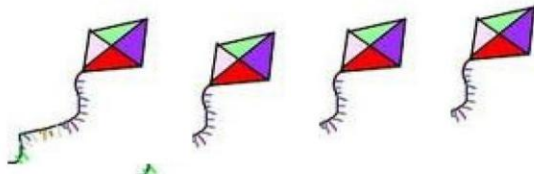


Nome: _____

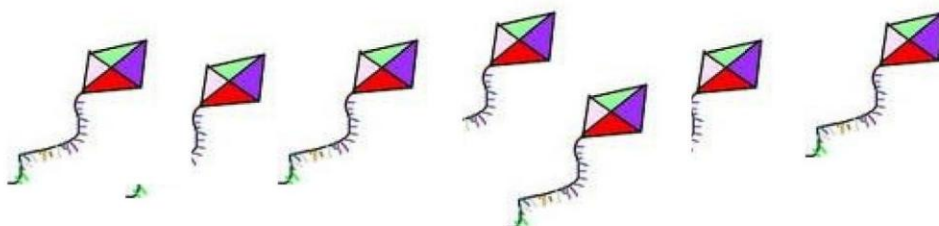
AVALIAÇÃO DE MATEMÁTICA

PEDRO E RAUL GOSTAM DE SOLTAR PIPAS.

PIPAS DE PEDRO



PIPAS DE RAUL



4-QUEM TEM MAIS PIPAS, RAUL OU PEDRO? _____

5-QUANTAS A MAIS? _____


6-COMPLETE A SUBTRAÇÃO ABAIXO, QUE PODE SER USADA PARA OBTER A RESPOSTA.

$$7 - \underline{\quad} = \underline{\quad}$$

QUANTA COISA GOSTOSA! LUCAS NEM SABE O QUE COMPRAR...



2 REAIS



3 REAIS



4 REAL



1 REAL

7-SE LUCAS COMPRAR



E



, VAI GASTAR _____ REAIS.

8-SE ELE COMPRAR

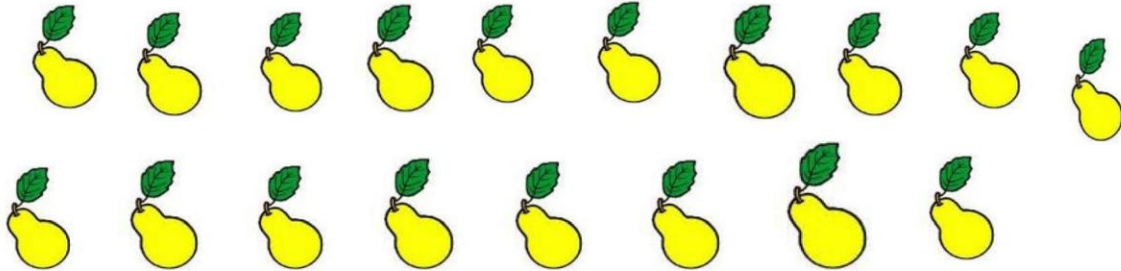


, VAI GASTAR _____ REAIS.

Nome: _____

AVALIAÇÃO DE MATEMÁTICA

OBSERVE ESTE CONJUNTO DE PERAS CIRCULE OS PARES E RESPONDA:



9-O NÚMERO DE PERAS É PAR OU ÍMPAR? _____

JOÃO, KÁTIA E RODRIGO UTILIZAM DE MATERIAL DOURADO NA AULA DE MATEMÁTICA.

JOÃO		KÁTIA		RODRIGO	
D	U	D	U	D	U
□ □ □	□ □ □	□ □ □	□ □ □ □	□ □ □	□ □ □ □

10- QUAL FOI O NÚMERO INDICADO POR KÁTIA? _____

11-QUEM INDICOU O MAIOR NÚMERO? _____

12-ESCREVA NO QUADRO O NÚMERO QUE ESTÁ FALTANDO ENTRE CADA PAR DE NÚMEROS:

25 ___ 27	31 ___ 33	47 ___ 49
18 ___ 20	37 ___ 39	51 ___ 53
66 ___ 68	74 ___ 76	83 ___ 85