

ESCOLA \_\_\_\_\_ DATA: \_\_\_\_ / \_\_\_\_ / \_\_\_\_

PROF: \_\_\_\_\_ TURMA: \_\_\_\_\_

NOME: \_\_\_\_\_

## AVALIAÇÃO

### QUESTÃO 1:

ESCREVA O ALFABETO COMPLETO:

\_\_\_\_\_  
\_\_\_\_\_  
\_\_\_\_\_

### QUESTÃO 2:

PROCURE O NOME DOS ANIMAIS NO QUADRO E ESCREVA-O NA FIGURA CORRETA:




\_\_\_\_\_



\_\_\_\_\_



\_\_\_\_\_




\_\_\_\_\_



\_\_\_\_\_



\_\_\_\_\_



\_\_\_\_\_



\_\_\_\_\_




\_\_\_\_\_

QUESTÃO 3:

DE OLHO NA PARLENDIA

GALINHA CHOCA  
VAI TER PINTINHOS  
TODOS BEM GORDOS  
E BEM LINDINHOS




QUANTOS FILHOTES A GALINHA CHOCA VAI TER?

PINTE ABAIXO A QUANTIDADE CORRESPONDENTE AO TOTAL DE FILHOTES.



PINTE A QUANTIDADE DE FILHOTES QUE A GALINHA CHOCA VAI TER:



QUESTÃO 4:

PINTA NOMES

OBSERVE AS FIGURAS E PINTE SOMENTE OS NOMES QUE SE REFEREM A ELAS:



GATO
MATO
PATO



FACA
LATA
MATA



BALA
MALA
RALA



FURE
BULE
PULE



LUA
RUA
SUA



SOFÁ
SALA
SOLA

QUESTÃO 5:

QUE TAL AJUDAR A TURMINHA A DESCOBRIR QUANTAS BALAS CADA UM POSSUI? EM SEGUIDA, VAMOS LIGAR CADA PERSONAGEM AO NÚMERO DE BALAS CORRESPONDENTE?

8

4

5

6

