

ESCOLA _____ DATA: ____/____/____

PROF: _____ TURMA: _____

NOME: _____

MATEMÁTICA

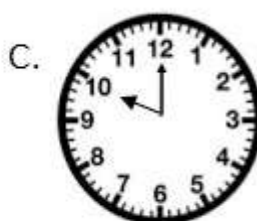

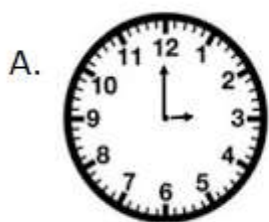
1. ROSANA TEM 5 ANOS DE IDADE, E SUA AMIGA FANTINI TEM 12 ANOS.

A. DAQUI A QUANTOS ANOS A IDADE DE ROSANA CORRESPONDERÁ À METADE DA IDADE DE FANTINI?

B. QUAL SERÁ A IDADE DE ROSANA E DE FANTINI QUANDO ISSO OCORRER?

2. MICHEL PESAVA 35 KG. SEIS MESES DEPOIS ELE ENGORDOU MAIS 4 KG. QUANTO ELE PESA AGORA?

3. O CIRCO ALEGRETE CHEGOU À CIDADE COM PALHAÇOS, ACROBATAS, TRAPEZISTAS E DOMADORES. O CIRCO ABRIRÁ SUAS PORTAS AO PÚBLICO ÀS 10 HORAS. ASSINALE NO RELÓGIO QUE MARCA A HORA QUE O CIRCO ABRIRÁ.



4. RENATA COMPROU PARA SEU FILHO JOÃO OS MATERIAIS ABAIXO. ASSINALE NA ALTERNATIVA QUE REPRESENTA O TANTO QUE ELA GASTOU.



MOCHILA
R\$25,00



TRICICLO
R\$37,00

A) R\$62,00

B) R\$63,00

C) R\$68,00

D) R\$69,00

5. QUAL NÚMERO YASMIN REPRESENTOU NO ÁBACO ABAIXO?



A) 214

B) 213

C) 215

D) 217

6. NO ESCRITÓRIO DO SENHOR MARCIO HAVIA 97 LIVROS DE ROMANCE. DONA JÉSSICA COLOCOU MAIS 83 LIVROS DE AVENTURA. JULIANA, A FILHA MAIS NOVA RETIROU 21. QUANTOS LIVROS SOBRARAM?

7. NO ESTÁDIO "MANÉ GARROCHA" CABEM 99 PESSOAS. ENTRARAM 78 PESSOAS. QUANTAS PESSOAS AINDA FALTAM PARA LOTAR O ESTÁDIO?

8. KATIA COMPROU 3 DÚZIAS E MEIA DE OVOS. QUANTOS OVOS ELA COMPROU? ELA FEZ DOIS BOLOS E GASTOU 8 OVOS. QUANTOS OVOS SOBRARAM?