

ESCOLA _____ DATA: ____ / ____ / ____

PROF: _____ TURMA: _____

NOME: _____

AVALIAÇÃO DE MATEMÁTICA – 1º BIMESTRE

1) Observe a tabela seguinte:

MUNICÍPIO	POPULAÇÃO
Niterói/RJ	459.451
Porto Alegre/RS	1.360.590
Balneário Camburiú/SC	73.455

Fonte: IBGE, Censo Demográfico 2000.

Responda de acordo com texto:

- a) Qual o município com a maior população? **Porto Alegre**
- b) Decomponha esse número = **1.360.590**
- $1.000.000 + 300.000 + 60.000 + 500 + 90$**
- c) Quantas classes contém este número? **Este número contém 3 classes**
- d) Quantas ordens? **Este número possui 7 ordens**
- e) Qual o município com menor população? **Balneário Camburiú**

2) As figuras geométricas são denominadas, sólidos geométricos e são classificados em dois grandes grupos.

Assinale a resposta correta:

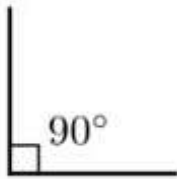
() Cubos e Pirâmides

(x) Poliedros e Corpos Redondos

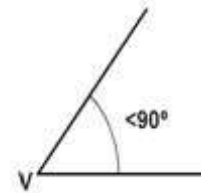
() Face e Vértice

3) Ângulo é a abertura entre duas semirretas que tem um ponto em comum, denominado vértice. Desenhe o ângulo de a cordo com seu nome:

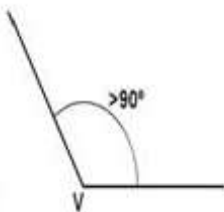
a) ângulo reto (90°);



b) ângulo agudo (menos de 90°);



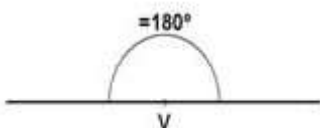
c) ângulo obtuso (mais de 90° e menos de 180°);



d) ângulo nulo (0°);



e) ângulo raso (180°);



f) ângulo de meia volta ou Giro (360°).



- 4) O ano está dividido em quantos meses? [Em 12 meses.](#)
- 5) Qual o nome que se dá a um período de tempo de 10 anos? [Década](#)
- 6) Qual o nome do período de tempo de 100 anos? [Centenário](#)
- 7) Quantos anos há em um período de tempo que chamamos de milênios? [1.000 anos](#)